

**PREFEITURA MUNICIPAL DE PIRAÚBA ESTADO DE MINAS GERAIS**  
**EDITAL Nº 001/2016 - CONCURSO PÚBLICO**

**VESPERTINO 2 – 15/01/2017**  
**NÍVEL MÉDIO**

**PROVA OBJETIVA**

**CARGO: ASSISTENTE ADMINISTRATIVO**

**Leia atentamente as INSTRUÇÕES:**

1. Não é permitido ao candidato realizar a prova usando óculos escuros (exceto para correção visual ou fotofobia, desde que informe no ato da inscrição) ou portando: aparelhos eletrônicos, qualquer tipo de relógio, chaves e acessórios que cubram a cabeça e/ou rosto.
2. Caso o candidato porte algum dos itens mencionados anteriormente, antes do início das provas deverá acomodá-lo(s) **EMBAIXO DE SUA CADEIRA**, sob sua guarda e responsabilidade, mantendo o(s) aparelho(s) eletrônico(s) desligado(s), sob pena de ser eliminado deste Concurso Público.
3. Confira seus dados no cartão-resposta: nome, número de inscrição e o cargo para o qual se inscreveu.
4. Assine seu cartão-resposta.
5. Aguarde a autorização do Fiscal para abrir o caderno de provas. Ao receber a ordem do fiscal, confira o caderno de provas com muita atenção. Nenhuma reclamação sobre o total de questões ou falha de impressão será aceita depois de iniciada a prova.
6. O cartão-resposta não será substituído, salvo se contiver erro de impressão.
7. Preencha toda a área do cartão-resposta correspondente à alternativa de sua escolha, com caneta esferográfica (tinta azul ou preta), sem ultrapassar as bordas. As marcações duplas, ou rasuradas, com corretivo, ou marcadas diferentemente do modelo estabelecido no cartão-resposta poderão ser anuladas.
8. Sua prova tem **30** questões, com **4** alternativas.
9. Cabe apenas ao candidato a interpretação das questões, **o fiscal** não poderá fazer nenhuma interferência.
10. A prova será realizada com duração máxima de **3 (três) horas**, incluído o tempo para a realização da Prova Objetiva e o preenchimento do cartão-resposta.
11. O candidato poderá retirar-se do local de realização das provas somente **1 (uma) hora** após o seu início, sem levar o caderno de provas.
12. O candidato poderá levar o caderno de provas, assim como anotação contendo transcrição do seu cartão-resposta, somente **1h30min** (uma hora e trinta minutos) após o início da realização das provas.
13. Ao terminar a prova, o candidato deverá entregar ao fiscal de sala o cartão-resposta preenchido e assinado.
14. Os **3 (três)** candidatos, que terminarem a prova por último, deverão permanecer na sala, e só poderão sair juntos após o fechamento do envelope, contendo os cartões-resposta dos candidatos presentes e ausentes, e assinarem no lacre do referido envelope, atestando que este foi devidamente lacrado.
15. Durante todo o tempo em que permanecer no local onde está ocorrendo o concurso, o candidato deverá, manter o celular desligado e sem bateria, só sendo permitido ligar depois de ultrapassar o portão de saída do prédio.
16. Não será permitido ao candidato fumar na sala de provas, bem como nas dependências.
17. Ao término da prova, o candidato deverá se retirar do recinto onde está ocorrendo o certame, não lhe sendo mais permitido o uso do banheiro e bebedouro.

**BOA PROVA!**

## LÍNGUA PORTUGUESA

Leia o poema seguinte para responder às próximas três questões.

“Órion”- (Carlos Drummond de Andrade).

A primeira namorada, tão alta  
Que o beijo não alcançava,  
O pescoço não alcançava,  
Nem mesmo a voz alcançava.  
Eram quilômetros de silêncio.

Luzia na janela do sobradão.

01. Leia os itens e, de acordo com o texto, assinale a alternativa correta:

I - Órion é uma constelação de estrelas brilhantes e visíveis.

II - O poeta compara a distância que existe entre ele e a sua primeira namorada com a distância que há entre ele, na Terra, e a Constelação Órion.

III - O termo “Luzia” pode ser interpretado de duas maneiras diferentes: pode ser o nome da namorada (substantivo próprio), ou é o pretérito imperfeito do indicativo do verbo “luzir,” isto é, brilhar.

IV - “Luzia na janela do sobradão”. Esse verso diz que “Luzia,” que estava na janela do sobrado, brilhava como Órion, como estrela, e “luzia” (brilhava) na janela.

V - A separação das estrofes: o último verso está sozinho na 2ª estrofe, o que reforça a ideia de incomunicabilidade, solidão, silêncio.

- a) Apenas I, II, III e IV estão corretos.
- b) Apenas II, III, IV e V estão corretos.
- c) Apenas III, IV e V estão corretos.
- d) Todos os itens estão corretos.

02. Leia o verso: “Eram quilômetros de silêncio”. Em seguida, assinale a alternativa incorreta:

- a) O silêncio é imposto tanto pela distância real, a distância do chão até a janela alta do sobrado, quanto pela distância figurada, a falta de comunicação entre eles.
- b) Mostra que entre o poeta e a primeira namorada não havia comunicação, não tinha um contato verbal.
- c) A comunicabilidade existente entre o eu lírico e sua primeira namorada era evidente, clara e cristalina.
- d) A expressão “Eram quilômetros de silêncio,” mostra um exagero por parte do autor. Tal figura é chamada de hipérbole.

03. Os quatro primeiros versos do poema têm apenas um verbo, e repetido: “alcançava,”, indicando ação, fato. Ele está conjugado no seguinte tempo e modo verbal:

- a) Pretérito perfeito do indicativo
- b) Pretérito imperfeito do indicativo
- c) Pretérito mais-que-perfeito do indicativo
- d) Pretérito imperfeito do subjuntivo

04. Leia os itens sobre frases e assinale a alternativa correta:

I - No enunciado “Droga é uma armadilha. Você sabe disso. O seu filho não,”, a frase destacada é verbal.

II - A frase “Converse com ela,” é frase verbal.

III - “Cuidado, cão bravo,” é uma frase nominal.

IV - “Drogas? Nem morto.” É frase nominal.

V - “Não usaria drogas nem que estivesse morto.” Frase verbal.

- a) Apenas II, III, IV e V estão corretos.
- b) Apenas I, II, III e V estão corretos.
- c) Apenas III, IV e V estão corretos.
- d) Todos os itens estão corretos.

05. Com referência às palavras “mas” (conjunção), “más” (adjetivo) e “mais” (advérbio), assinale a alternativa incorreta:

- a) A espada vence, mais não convence.
- b) Fiz tudo muito calmamente: devagar se chega mais depressa.
- c) Aquelas mulheres são más.
- d) O Sol, isto é, a mais próxima das estrelas, comanda a vida terrestre.

06. Figuras de linguagem, também chamadas figuras de estilo, são recursos especiais de que se vale quem fala ou escreve, para comunicar à expressão mais força e colorido, intensidade e beleza.

Sendo assim, assinale a alternativa onde temos uma figura de linguagem chamada metáfora:

- a) O rei dos animais foi generoso.(= leão).
- b) As derrotas e as desilusões são amargas.

- c) Foi o que vi com os meus próprios olhos.  
d) Chorou rios de lágrimas.

**07. Marque a alternativa onde temos apenas hiatos:**

- a) Mãe, aorta, doer.  
b) Mágoa, fuinha, ciúme.  
c) Podia, frear, poeira.  
d) Tranquilo, creem, faísca.

**08. Leia os itens e assinale a alternativa correta:**

**I - Fonemas são as menores unidades sonoras da fala.**

**II - Fonemas são os sons elementares e distintos que, articulados e combinados, formam as sílabas, os vocábulos e a teia da frase, na comunicação oral.**

**III - Os fonemas funcionam como elementos distintivos ou diferenciadores das palavras, porque são capazes de diferenciar umas de outras.**

**IV - Na língua escrita, os fonemas são representados por signos ou sinais gráficos chamados letras. O conjunto das letras denomina-se alfabeto ou abecedário.**

**V - É importante não confundir letra com fonema. Fonema é som, letra é o sinal gráfico que representa o som. Para falar, usamos fonemas; para escrever, usamos letras.**

- a) Apenas I, II, III e IV estão corretos.  
b) Apenas II, III, IV e V estão corretos.  
c) Apenas III, IV e V estão corretos.  
d) Todos os itens estão corretos.

**09. Assinale a alternativa incorreta quanto ao plural dos substantivos compostos:**

- a) Boas-vidas, guardas-louças, pés de moleque.  
b) Câmaras de ar, mulas sem cabeça, quintas-feiras.  
c) Livres-pensadores, os bota-fora, os guarda-vidas.  
d) Tias-avós, amores-perfeitos, curtas-metragens.

**10. Veja os itens e assinale a alternativa correta:**

**I - Todos os vocábulos proparoxítonos são acentuados na vogal tônica.**

**II - Acentuam-se os vocábulos paroxítonos terminados em “i,” “is,” “us,” “um,” “uns:” (táxi, lápis, Vênus, álbum, médiuns).**

**III - Acentuam-se os vocábulos oxítonos terminados em “a,” “e,” “o,” seguidos ou não de “s:” (xará, pajé, vovô).**

**IV - Acentuam-se os verbos pôr, têm (plural) e vêm (plural) porque existem os homógrafos por (preposição átona), tem (singular) e vem (singular).**

**V - Não se acentuam os ditongos fechados: (areia, joio, ateu).**

- a) Apenas I, II, III e V estão corretos.  
b) Apenas I, II, III e IV estão corretos.  
c) Apenas II, III e IV estão corretos.  
d) Todos os itens estão corretos.

**MATEMÁTICA**

**11. João estuda à noite e sua aula começa às 18h40min. Cada aula tem duração de 45 minutos, e o intervalo dura 15 minutos. Sabendo-se que nessa escola há 5 aulas e 1 intervalo diariamente, pode-se afirmar que o término das aulas de João se dá às:**

- a) 22h30min  
b) 22h40min  
c) 22h50min  
d) 23h

**12. Segundo o ministério da Educação, a tabela a seguir representava o analfabetismo no Brasil em 15/05/2013, sabendo-se que, na data em questão, o Brasil possuía uma população de aproximadamente 200 milhões de habitantes. Analisando a tabela, é correto afirmar que o número de analfabetos de 50 a 59 anos era de, aproximadamente:**

**Taxa do analfabetismo no Brasil por faixa etária**

<b>Idade</b>	<b>Porcentagem</b>
<b>60 anos ou mais</b>	<b>26,5%</b>
<b>50 a 59 anos</b>	<b>13,8%</b>
<b>40 a 49 anos</b>	<b>9,9%</b>
<b>30 a 39 anos</b>	<b>6,6%</b>
<b>25 a 29 anos</b>	<b>4,0%</b>
<b>18 a 24 anos</b>	<b>2,6%</b>
<b>15 a 17 anos</b>	<b>2,2%</b>

- a) 6,9 milhões
- b) 13,8 milhões
- c) 27,6 milhões
- d) 55,2 milhões

13. Em um loteamento, o valor do metro quadrado é de R\$20,00. Cláudio comprou um terreno retangular de 30m por 45m. Qual é o valor que ele pagou pelo terreno?

- a) R\$ 540000,00
- b) R\$ 180000,00
- c) R\$ 90000,00
- d) R\$ 27000,00

14. Sejam as matrizes  $A = \begin{bmatrix} 0 & -4 & 3 \\ 7 & 9 & -6 \\ 1 & -5 & 2 \end{bmatrix}$  e  $B = \begin{bmatrix} 5 & -8 & 3 \\ 5 & 3 & 4 \\ -3 & 7 & 9 \end{bmatrix}$ . A matriz  $A - B$  é igual a:

a)  $\begin{bmatrix} -5 & 4 & 0 \\ 2 & 6 & -10 \\ 4 & -12 & -7 \end{bmatrix}$

b)  $\begin{bmatrix} -5 & -12 & 0 \\ 2 & 6 & 10 \\ -2 & 2 & 7 \end{bmatrix}$

c)  $\begin{bmatrix} 5 & 12 & 0 \\ 2 & 6 & 10 \\ 4 & 2 & 7 \end{bmatrix}$

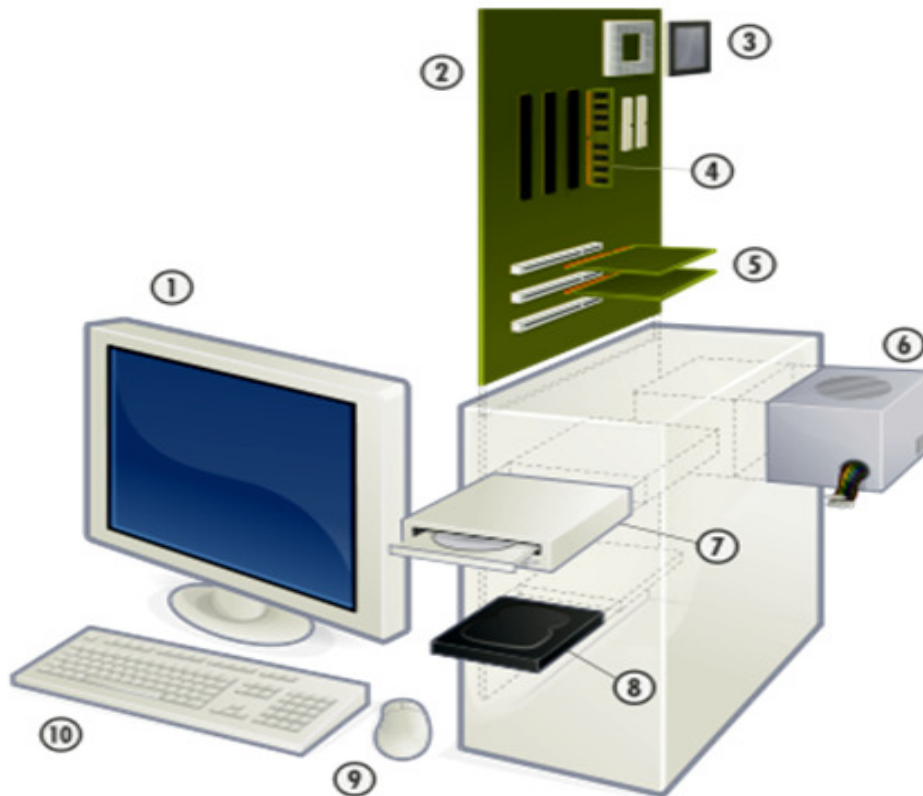
d)  $\begin{bmatrix} 5 & 12 & 0 \\ 2 & 6 & 10 \\ -2 & -12 & -7 \end{bmatrix}$

15. Um quilômetro pode ser totalmente dividido em:

- a) 100 partes de 1 decímetro.
- b) 10 partes de 10 decâmetros.
- c) 1000 partes de 10 metros.
- d) 1000 partes de 1 centímetros.

#### INFORMÁTICA

16. Analise a seguinte figura:



O item número 1 é o \_\_\_\_\_, e serve para \_\_\_\_\_, já o modelo desse computador é um \_\_\_\_\_.

As lacunas dessa frase são preenchidas corretamente com as palavras da alternativa:

- a) Televisor – Saída de dados – Desk Top
- b) Monitor – Entrada de dados – Notebook
- c) Televisor – Entrada de dados – Notebook
- d) Monitor – Saída de dados – Desk Top

Observe a figura seguinte para responder às duas próximas questões.

Pasta1 - Microsoft Excel

Arquivo | Página Inicial | Inserir | Layout da Página | Fórmulas | Dados | Revisão | Exibição

Calibri 20 | Quebrar Texto Automaticamente | Geral

Fonte | Alinhamento | Número

CABEÇALHO			
PRODUTO	QUANTIDADE		VALOR
Arroz	5K	R\$	20,00
Feijão	1k	R\$	10,00
TOTAL	6K	R\$	30,00

17. Analise os itens a seguir e marque a alternativa correta.

- I) As células A1, B1 e C1 estão mescladas e centralizadas.
- II) As colunas B e C estão alinhadas ao centro.
- III) A célula C8 é o resultado da soma das células A3 até A7.

IV) As células C3, C4 e C8 estão formatadas como contábil.

V) A fonte usada é ARIAL.

- a) Somente os itens I e III estão corretos.
- b) Somente os itens II e IV estão incorretos.
- c) Somente os itens II e V estão incorretos.
- d) Somente os itens II, III e IV estão corretos.

18. Marque a alternativa que responde aos itens correta e respectivamente:

I) Qual é o tamanho da fonte na linha 1?

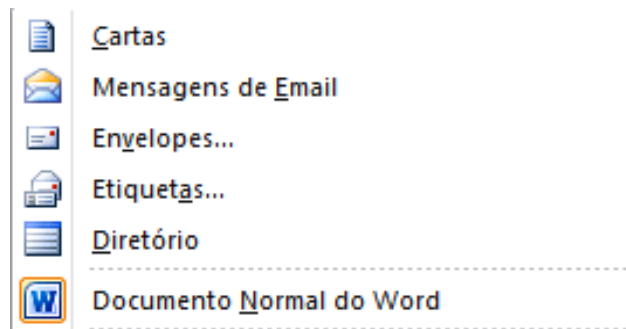
II) Que Fonte foi aplicada nas linhas de 1 a 8?

III) Como a Coluna A está alinhada?

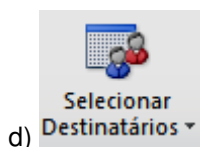
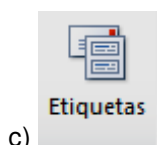
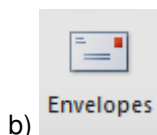
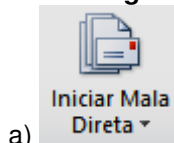
IV) Como a Coluna C está alinhada?

- a) 14 – Calibri – à esquerda – à direita
- b) 20 – Calibri – à esquerda – à direita
- c) 14 – Arial – à direita – à esquerda
- d) 20 – Arial – à direita – à esquerda

19. Analise a figura:



Essa imagem do Microsoft Word é selecionada a partir de qual botão?



20. No texto **SUBSCRITA** SUBSCRITA **SOBESCRITA** SOBESCRITA, para se conseguir esses recursos “subscrito ou sobescrito”, temos de usar os seguintes comandos, respectivamente, no texto selecionado:

- a) Ctrl+Sinal de Igual e Ctrl+Shift+Sinal de Mais.
- b) Ctrl+Shift+Sinal de Mais e Ctrl+Sinal de Igual.
- c) Ctrl+Sinal de Igual e Ctrl+Shift+Sinal de Menos.
- d) Ctrl+Sinal de menos e Ctrl+Shift+Sinal de Menos.

## NOÇÕES DE ADMINISTRAÇÃO PÚBLICA

21. São princípios da administração pública expressamente previstos no artigo 37 da Constituição Brasileira:

- a) Finalidade, eficácia, legalidade, publicidade e impessoalidade.
- b) Legalidade, eficiência, moralidade, publicidade e impessoalidade.
- c) Finalidade, eficácia, moralidade, publicidade e impessoalidade.

d) Legalidade, impessoalidade, motivação, publicidade e eficácia.

**22. No que tange aos conceitos e classificações da Administração Pública, assinale a alternativa correta.**

- a) A Administração Pública, em sentido subjetivo, formal ou orgânico, designa os entes que exercem a atividade administrativa e compreende pessoas jurídicas, órgãos e agentes públicos.
- b) Em sentido amplo (latu sensu), a Administração Pública compreende apenas os órgãos administrativos, em sua função puramente administrativa.
- c) Em sentido estrito (stricto sensu), a Administração Pública compreende; os órgãos governamentais, incumbidos de planejar, comandar, traçar diretrizes e metas (exercendo uma função política); e os órgãos administrativos, responsáveis por executar os planos governamentais (exercendo a função administrativa).
- d) A Administração Pública, em sentido objetivo, formal ou material, busca o objeto da Administração, ou seja, a própria função política.

**23. Com relação aos modelos de Administração Pública, assinale a alternativa correta.**

- a) O alicerce da Administração Pública burocrática é o princípio da eficiência, o qual foi inserido no caput da Constituição Federal por meio da Emenda Constitucional n.º 19, de 1998.
- b) A Administração Pública gerencial, em face de seu formalismo exagerado e preocupação excessiva com controles, torna a administração pública rígida, engessada e pouco eficiente.
- c) Na Administração Pública patrimonialista, verifica-se que o aparelho do Estado é utilizado em benefício do próprio governante e de terceiros por ele favorecidos. Este modelo é caracterizado pela não distinção entre o que é patrimônio público e o que é patrimônio privado. Em outros termos, a *res publica* (coisa do povo) se confundia com a *res principis* (coisa do príncipe).
- d) O contrato de gestão é técnica típica da Administração Pública patrimonialista. Esse tipo de contrato pode ser firmado pela Administração Direta com entidades não pertencentes à administração pública, como, a exemplo, as fundações públicas.

**24. Com relação às Normas Brasileiras de Contabilidade aplicada ao setor público, assinale a alternativa incorreta.**

- a) O campo de aplicação da contabilidade aplicada ao setor público é o espaço de atuação do profissional de contabilidade que demanda estudo, interpretação, identificação, mensuração, avaliação, registro, controle e evidenciação de fenômenos contábeis, decorrentes de variações patrimoniais em: entidades do setor público; e/ou de entidades que recebam, guardem, movimentem, gerenciem ou apliquem recursos públicos, na execução de suas atividades, no tocante aos aspectos contábeis da prestação de contas.
- b) O patrimônio público é o conjunto de direitos e bens, tangíveis ou intangíveis, onerados ou não, adquiridos, formados, produzidos, recebidos, mantidos ou utilizados pelas entidades do setor público, que seja portador ou represente um fluxo de benefícios, presente ou futuro, inerente à prestação de serviços públicos ou à exploração econômica por entidades do setor público e suas obrigações.
- c) A contabilidade aplicada ao setor público é o ramo da ciência contábil que aplica, no processo gerador de informações, os Princípios Fundamentais de Contabilidade e as normas contábeis direcionados ao controle patrimonial de entidades do setor público.
- d) O objetivo da Contabilidade Aplicada ao Setor Público é refletir, sistematicamente, o ciclo da administração pública para evidenciar informações necessárias à tomada de decisões, à prestação de contas e à instrumentalização do controle social.

**25. Com relação às demonstrações contábeis das entidades definidas no campo da Contabilidade Aplicada ao Setor Público, assinale a alternativa correta.**

- a) As demonstrações contábeis das entidades definidas no campo da Contabilidade Aplicada ao Setor Público são: Balanço Patrimonial; Balanço Orçamentário; Balanço Financeiro; Demonstração das Variações Patrimoniais; Demonstração dos Fluxos de Caixa; Demonstração do Resultado Econômico.
- b) As demonstrações contábeis devem ser divulgadas com a apresentação dos valores correspondentes ao período posterior.
- c) As demonstrações contábeis devem conter a identificação da entidade do setor público, do chefe do Poder Executivo e do administrador responsável.
- d) Para fins de publicação, as demonstrações contábeis devem apresentar os valores monetários apenas em unidades de centena ou em unidades de dezena.

**26. Instrumento orçamentário que compreende as metas e prioridades da administração pública, incluindo as despesas de capital para o exercício financeiro subsequente, orientará a elaboração da lei orçamentária anual, disporá sobre as alterações na legislação tributária e estabelecerá a política de aplicação das agências financeiras oficiais de fomento.**

**Qual instrumento está descrito acima?**

- a) Anexo de Metas Fiscais
- b) Anexo de Riscos Fiscais
- c) Plano Plurianual
- d) Lei de Diretrizes Orçamentárias

**27. Observe as seguintes afirmativas a respeito do orçamento público brasileiro:**

**I- A lei do orçamento conterà a discriminação da receita e despesa de forma a evidenciar a política econômica financeira e o programa de trabalho do governo, obedecidos os princípios de unidade universalidade e anualidade;**

**II- A lei de orçamento poderá conter autorização ao Poder Legislativo para abrir créditos extraordinários até determinada importância;**

**III- São receitas correntes as receitas tributárias, de contribuições, patrimonial, agropecuária, industrial, de serviços e outras e, ainda, as provenientes de recursos financeiros recebidos de outras pessoas de direito público ou privado, quando destinadas a atender despesas classificáveis em despesas correntes;**

**IV- Classificam-se como despesas de custeio as dotações para manutenção de serviços anteriormente criados, inclusive as destinadas a atender a obras de conservação e adaptação de bens imóveis.**

**Com base nas afirmativas supramencionadas, assinale a alternativa que as julga corretamente.**

- a) Apenas as afirmativas I e II são verdadeiras.
- b) Apenas as afirmativas I, III e IV são verdadeiras.
- c) Apenas as afirmativas II, III e IV são verdadeiras.
- d) Apenas a afirmativa II e III são verdadeiras

**28. É entidade integrante da Administração Pública Indireta.**

**Essa afirmação refere-se a:**

- a) Secretaria de Governo
- b) Tribunal de Justiça
- c) Autarquia
- d) Ministério Público

**29. Agente público é toda pessoa natural que esteja ligada de alguma forma com a Administração Pública, podendo ser este vínculo permanente ou transitório.**

**Assinale a alternativa que conceitua corretamente a classificação do agente público correspondente.**

- a) Agentes honoríficos são os chefes do poder executivo e legislativo.
- b) Agentes políticos são aqueles que recebem a incumbência da Administração para representá-la em determinado ato ou praticar certa atividade específica e mediante a remuneração do poder público credenciado.
- c) Agentes delegados são requisitados para colaborarem com o Estado mediante a prestação de serviços específicos e de forma gratuita.
- d) Agentes Administrativos são aqueles que se vinculam à Administração Pública por relações profissionais e sujeitam-se à hierarquia funcional.

**30. Acerca dos conceitos básicos de direito administrativo, assinale a alternativa incorreta.**

- a) O Estado é formado por três elementos: povo, território e governo soberano.
- b) Jurisprudência, técnica e costumes são fontes primárias do direito administrativo.
- c) A forma de Estado no Brasil é a federação.
- d) O sistema de governo no Brasil é o presidencialismo.

**RASCUNHO**