

PREFEITURA MUNICIPAL DE JEQUIÉ - EDITAL Nº 01/2018 - PROCESSO DE REGIME ESPECIAL DE DIREITO ADMINISTRATIVO.

PROVA OBJETIVA.

CARGO: ATENDENTE DE FARMÁCIA.

Leia atentamente as INSTRUÇÕES:

1. Não é permitido ao candidato realizar a prova usando óculos escuros (exceto para correção visual ou fotofobia, desde que informe no ato da inscrição) ou portando: aparelhos eletrônicos, qualquer tipo de relógio, chaves, acessórios que cubram o rosto, a cabeça, ou parte desta.
2. Caso o candidato porte algum dos itens mencionados anteriormente, antes do início das provas deverá acomodá-lo(s) EMBAIXO DE SUA CADEIRA, sob sua guarda e responsabilidade, mantendo o(s) aparelho(s) eletrônico(s) desligado(s), sob pena de ser eliminado deste Concurso Público.
3. Durante todo o tempo em que permanecer no local onde estará ocorrendo o Concurso Público, o candidato deverá manter o celular desligado, sendo permitido ligá-lo somente após ultrapassar o portão de saída do prédio, sob pena de ser eliminado deste Concurso Público.
4. Confira se sua prova tem 30 questões, cada qual 4 alternativas, veja se o cargo para o qual se inscreveu está correto.
5. Confira seus dados no cartão-resposta (nome, número de inscrição e o cargo para o qual se inscreveu) e **ASSINE** o mesmo.
6. Preencha toda a área do cartão-resposta correspondente à alternativa de sua escolha, com caneta esferográfica (tinta azul ou preta), sem ultrapassar as bordas. As marcações duplas, ou rasuradas, com corretivo, ou marcadas diferentemente do modelo estabelecido no cartão-resposta poderão ser anuladas.
7. Observe as orientações apresentadas no cartão-resposta. O mesmo não será substituído, salvo se contiver erro de impressão.
8. Aguarde a autorização do Fiscal para abrir o caderno de provas. Ao receber a ordem dele, confira o caderno de provas com muita atenção. Nenhuma reclamação sobre o total de questões, ou falha de impressão, será aceita depois de iniciada a prova.
9. Cabe apenas ao candidato a interpretação das questões, o fiscal não poderá fazer nenhuma interferência.
10. A prova será realizada com duração máxima de **3 (três) horas**, incluído o tempo para leitura das instruções, realização da Prova Objetiva e o preenchimento do cartão-resposta.
11. O Candidato poderá se retirar do local da prova somente 1 h (uma hora) após seu início, levando seu caderno de prova.
12. Ao término da prova, o candidato deverá entregar ao fiscal de sala o cartão-resposta preenchido e assinado.
13. Os **3 (três)** candidatos, que terminarem a prova por último, deverão permanecer na sala, e só poderão sair juntos após o fechamento do envelope, contendo os cartões-resposta dos candidatos presentes e ausentes, e assinarem no lacre do referido envelope, atestando que este foi devidamente lacrado.
14. Ao término da prova, o candidato deverá se retirar do recinto onde está ocorrendo a mesma, não lhe sendo mais permitido o uso do banheiro e bebedouro.
15. Não será permitido ao candidato fumar nas dependências onde está ocorrendo o concurso.

BOA PROVA!

LÍNGUA PORTUGUESA.

Leia o texto e responda às próximas duas questões.

Mãos dadas (Carlos Drummond de Andrade)

Não serei o poeta de um mundo caduco.
Também não cantarei o mundo futuro.
Estou preso à vida e olho meus companheiros.
Estão taciturnos mas nutrem grandes esperanças.
Entre eles, considero a enorme realidade.
O presente é tão grande, não nos afastemos.
Não nos afastemos muito, vamos de mãos dadas.

Não serei o cantor de uma mulher, de uma história,
Não direi os suspiros ao anoitecer, a paisagem vista da janela,
Não distribuirei entorpecentes ou cartas de suicida,
Não fugirei para as ilhas, nem serei raptado por serafins.
O tempo é a minha matéria, o tempo presente, os homens presentes,
A vida presente.

01. De acordo com o poema, assinale a alternativa incorreta.

- a) O tema da poesia é o compromisso do poeta com o seu tempo e com seus contemporâneos.
- b) Os versos "... olho meus companheiros" e "não nos afastemos muito, vamos de mãos dadas" expressam o comportamento do eu lírico com o coletivo, com o engajamento político e social.
- c) Na segunda estrofe do poema, o eu lírico afirma que a poesia desse momento histórico deve tratar de temas sentimentais e amorosos.
- d) Os versos da primeira estrofe mostram que o desejo do poeta é que sua poesia una os homens e transforme a vida presente.

02. Quanto aos encontros vocálicos, as palavras do poema "poeta / realidade / anoitecer / história" são respectivamente:

- a) Hiato / hiato / ditongo / ditongo.
- b) Ditongo / ditongo / hiato / hiato.
- c) Hiato / ditongo / ditongo / hiato.
- d) Ditongo / hiato / hiato / ditongo.

03. Relacione as duas colunas de acordo com a característica e o período literário e assinale a alternativa correta:

- | | |
|-------------------|---|
| A) Barroco. | 1 - Regionalismo. |
| B) Arcadismo. | 2 - Oposições. |
| C) Simbolismo. | 3 - Bucolismo. |
| D) Romantismo | 4 - Busca da perfeição poética. |
| E) Parnasianismo. | 5 - Condoreirismo. |
| F) Modernismo. | 6 - Introspecção, mergulho nas profundezas do eu. |

- a) A (2) – B (3) – C (6) – D (5) – E (4) – F (1).
- b) A (2) – B (3) – C (1) – D (6) – E (5) – F (4).
- c) A (2) – B (3) – C (5) – D (6) – E (4) – F (1).
- d) A (1) – B (3) – C (2) – D (4) – E (5) – F (6).

04. Na tirinha abaixo, nas orações "Acho que o mundo é redondo." e "Vou levar você a um oculista.", temos:

Hagar



Dik Browne



Folha de S. Paulo

Fonte: <https://www.google.com.br>.

- a) Sujeito exposto e sujeito oculto (ou elíptico).
- b) Sujeito oculto (ou elíptico) e sujeito oculto (ou elíptico).
- c) Sujeito simples e sujeito oculto (ou elíptico).
- d) Sujeito oculto (ou elíptico) e sujeito indeterminado.

05. Quanto à regência verbal, assinale a alternativa incorreta.

- a) Os apreciadores de vinho, aspiram o ar das barricas e se inebriam.
- b) Todos aspiram à paz.
- c) Nós lhe chamamos para conversar.
- d) Queremos bem a eles.

06. Quanto ao uso do sinal de crase, atribua verdadeiro (V) ou falso (F) aos itens e assinale a alternativa correta:

- () Ele se refere àquilo.
 - () Perguntei à senhora onde ela morava.
 - () Usamos sapatos à Luís XV.
 - () À noite fomos ao cinema.
 - () Fui à Ouro Preto dos Inconfidentes.
 - () Saí à uma hora.
 - () Retornamos à mesma estrada.
- a) V – V – F – V – F – F – F.
 - b) V – V – V – V – F – F – V.
 - c) V – V – V – V – F – F – F.
 - d) V – V – V – V – V – V – V.



07.

Fonte: <https://www.google.com.br>.

No cartaz, os verbos “disque”, “defenda” e “denuncie” estão conjugados no:

- a) Presente do Indicativo / Presente do Indicativo / Presente do Indicativo.
- b) Imperativo Afirmativo / Imperativo Afirmativo / Imperativo Afirmativo.
- c) Imperativo Negativo / Imperativo Negativo / Imperativo Negativo.
- d) Pretérito Perfeito / Pretérito Perfeito / Pretérito Perfeito.

08. Leia os itens quanto a não sinalização de crase e assinale a alternativa verdadeira:

- I- Ele anda a pé.
- II- Ela vive a falar asneiras.
- III- Não disse nada a ela.
- IV- Ele venceu de ponta a ponta.
- V- Não avisou a pessoa a cujos documentos encontrou.
- VI- Ele assistiu aquele espetáculo.

- a) Apenas I, II, III, IV e VI estão corretos.
- b) Apenas I, II, IV, V e VI estão corretos.
- c) Apenas I, II, III, IV e V estão corretos.
- d) Todos estão corretos.

09. Aponte a alternativa onde temos uma oração subordinada adjetiva restritiva.

- a) A arte que agrada a todos é muito cara.
- b) As exposições de arte, que encantam os apreciadores, deveriam ser mais divulgadas.
- c) A obra de Portinari, desafiando o tempo, continua atual.
- d) Ele tem amor às plantas, que cultiva com carinho.

10. Leia os fragmentos dos textos de José de Alencar e marque a alternativa incorreta, quanto ao uso, ou não, da vírgula.

- a) Quem te ensinou, guerreiro branco, a linguagem de meus irmãos?
- b) Iracema, a virgem dos lábios de mel, que tinha os olhos mais negros que a asa da graúna.
- c) Um dia ao pino do Sol, ela repousava em um claro da floresta.

d) Foi rápido, como o olhar, o gesto de Iracema.

MATEMÁTICA.

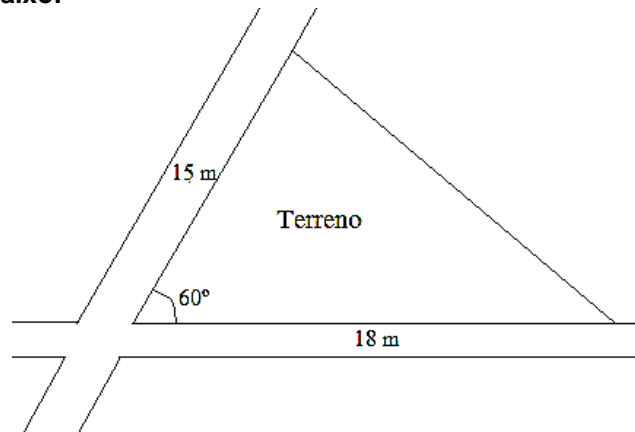
11. Sabendo que $f(x+2) = 3x - 1$, o valor de $3f(2) - f(1)$ é:

- a) -4
- b) -1
- c) 1
- d) 3

12. Sabendo que o número complexo $w = 6 + 2i$ é a soma do número complexo z com o dobro de seu conjugado \bar{z} , o módulo de z é:

- a) $2\sqrt{2}$.
- b) $\sqrt{10}$.
- c) 4.
- d) $2\sqrt{10}$.

13. Maurício possui um terreno triangular em uma determinada esquina de uma cidade no interior da Bahia, conforme a figura abaixo:



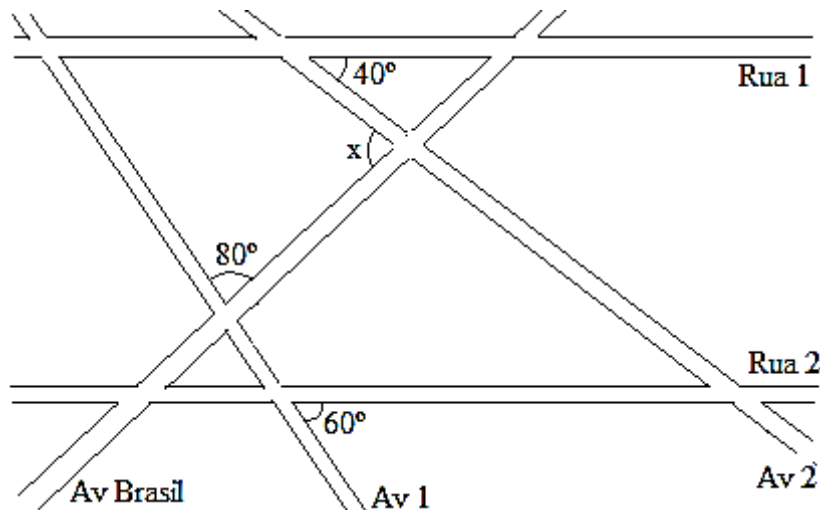
O comprimento do muro que Maurício deve construir para cercar todo o seu terreno é:

- a) 49 m.
- b) $33 + \sqrt{279}$ m.
- c) 50 m.
- d) $33 + \sqrt{292}$ m.

14. Considere a função modular $f(x) = |x^2 - 6x + 5| - 4$. O número de raízes de $f(x)$ é:

- a) 1.
- b) 2.
- c) 3.
- d) 4.

15. O mapa de uma região de uma determinada cidade é dado pela figura abaixo:



Sabe-se que, nesse trecho, as ruas e as avenidas são retilíneas, as Ruas 1 e 2 são paralelas, o menor ângulo entre a Rua 1 e a Avenida 2 é 40° , o menor ângulo entre a Avenida 1 e a Avenida Brasil é 80° e o menor ângulo entre a Rua 2 e a Avenida 1 é 60° . O menor ângulo x entre a Avenida Brasil e a Avenida 2 é:


- a) 50
- b) 60
- c) 70
- d) 80

CONHECIMENTOS GERAIS.

16. Marque a alternativa incorreta, conforme as informações publicadas no site <https://cidades.ibge.gov.br/brasil/ba/jequie/historico> e acessada em 07/08/2018.

- a) Em 1985, foi criado o distrito de Monte Branco (ex-povoado) e anexado ao município de Jequié.
- b) Em 1961, foi criado o município de Oriente Novo, desmembro do município de Jequié.
- c) O Distrito de Jequié foi criado em 1880, subordinado ao município de Maracás.
- d) Em 1990, foi criado o distrito de Florestal (ex-povoado) e anexado ao município de Jequié.

17. Analise as bandeiras a seguir e aponte a que pertence ao estado da Bahia.



18. O Estado da Bahia não faz divisa com qual dos estados a seguir?

- a) Alagoas.
- b) Tocantins.
- c) Espírito Santo.
- d) Pernambuco.

19. Tartaruga marinha é achada morta em Ilhéus e ONG aponta outros 12 casos em uma semana na região no sul da BA.



(Foto: Jamile Borges/Arquivo Pessoal)

Fonte: G1 BA, acessado em 07/08/2018.

Essa notícia informa, exceto:

- a) Segundo o projeto A-Mar, maior parte dos casos ocorreu na cidade de Uruçuca, onde os animais morreram presos em redes de pesca.
- b) Uma tartaruga marinha foi encontrada morta, na manhã desta terça-feira (7), em uma praia de Ilhéus, vítima de intoxicação por poluição.
- c) No litoral de Serra Grande, distrito de Uruçuca, foram registrados 12 casos de tartarugas mortas nos últimos sete dias.
- d) Na região de Uruçuca, há uma área de alimentação das tartarugas da espécie verde.

20. Em 11/05/2018, foi publicada no site <http://www.mdh.gov.br/todas-as-noticias/2018/maio/programa-de-protecao-a-criancas-e-adolescentes-ameacados-de-morte-e-fortalecido> a seguinte informação: “Programa de Proteção a Crianças e Adolescentes Ameaçados de Morte é fortalecido” pelo Decreto nº 9.371, de 11/5/2018, que reformula as regras de funcionamento do Programa de Proteção a Crianças e Adolescentes Ameaçados de Morte (PPCAAM).

Em conformidade com esse Decreto, atribua (V) verdadeiro ou (F) falso aos itens e aponte a alternativa correta:

- () As medidas e as providências relacionadas com o PPCAAM serão adotadas, executadas e mantidas em sigilo pelos profissionais envolvidos.
 - () O PPCAAM tem por finalidade proteger, em conformidade com o disposto na Lei nº 8.069, de 13 de julho de 1990, crianças e adolescentes expostos a grave e iminente ameaça de morte, quando esgotados os meios convencionais, por meio da prevenção ou da repressão da ameaça.
 - () As ações do PPCAAM poderão ser estendidas a jovens com até vinte e um anos, se egressos do sistema socioeducativo.
 - () A proteção poderá ser estendida aos pais ou responsáveis, ao cônjuge ou companheiro, aos ascendentes, descendentes, dependentes, colaterais e aos que tenham, comprovadamente, convivência habitual com o ameaçado, a fim de preservar a convivência familiar.
- a) V – F – V – V.
 - b) V – V – F – V.
 - c) F – V – V – V.
 - d) V – V – V – V.

CONHECIMENTOS ESPECÍFICOS.

21. Acerca das definições que a Lei nº 9.787, de 10 de fevereiro de 1999, traz, correlacione a Coluna 1 e a Coluna 2, no que tange às denominações regulamentadas por esta Lei:

Coluna 1

- 1. Medicamento de Referência.
- 2. Bioequivalência.
- 3. Medicamento Similar.
- 4. Produto Farmacêutico Intercambiável.
- 5. Medicamento Genérico.

Coluna 2

- () Aquele que contém o mesmo ou os mesmos princípios ativos, apresenta a mesma concentração, forma farmacêutica, via de administração, posologia e indicação terapêutica, preventiva ou diagnóstica, do medicamento de referência registrado no órgão federal responsável pela vigilância sanitária, podendo diferir somente em características relativas ao tamanho e forma do produto, prazo de validade, embalagem, rotulagem, excipientes e veículos, devendo sempre ser identificado por nome comercial ou marca.
- () Equivalente terapêutico de um medicamento de referência, comprovados, essencialmente, os mesmos efeitos de eficácia e segurança.
- () Consiste na demonstração de equivalência farmacêutica entre produtos apresentados sob a mesma forma farmacêutica, contendo idêntica composição qualitativa e quantitativa de princípio(s) ativo(s), e que tenham comparável biodisponibilidade, quando estudados sob um mesmo desenho experimental.
- () Medicamento similar a um produto de referência ou inovador, que se pretende ser com este intercambiável, geralmente produzido após a expiração ou renúncia da proteção patentária ou de outros direitos de exclusividade, comprovada a sua eficácia, segurança e qualidade, e designado pela DCB ou, na sua ausência, pela DCI.
- () Produto inovador registrado no órgão federal responsável pela vigilância sanitária e comercializado no País, cuja eficácia, segurança e qualidade foram comprovadas cientificamente junto ao órgão federal competente, por ocasião do registro.

Assinale a alternativa que corresponde à relação correta.

- a) 2 – 4 – 1 – 5 – 3.
- b) 3 – 4 – 2 – 5 – 1.

- c) 5 – 3 – 1 – 2 – 4.
 d) 4 – 3 – 5 – 2 – 1.

Tendo em mente o texto a seguir, acerca do disposto na Portaria nº 344, de 12 de maio de 1998, analise as próximas duas questões e assinale o que se pede.


A Notificação de Receita é o documento que, acompanhado de receita, autoriza a dispensação de medicamentos à base de substâncias constantes das listas “A1” e “A2” (entorpecentes), “A3”, “B1” e “B2” (psicotrópicas), “C2” (retinóicas para uso sistêmico) e “C3” (imunossupressoras).

22. Qual deve ser a cor do documento a seguir e quais medicamentos e/ou substâncias estão sujeitos à notificação através dele?

<p>NOTIFICAÇÃO DE RECEITA</p> <p>UF _____ NÚMERO _____</p> <p style="font-size: 2em; font-weight: bold; text-align: center;">A</p> <p>Data ____ de ____ de ____</p> <p>Paciente _____</p> <p>Endereço _____</p> <p>Assinatura do Emitente _____</p>	<p>IDENTIFICAÇÃO DO EMITENTE</p> <p>_____</p> <p>_____</p> <p>_____</p>	<p>ESPECIALIDADE FARMACÊUTICA</p> <p>Nome: _____</p> <p>_____</p> <p>Quantidade e Apresentação _____</p> <p>_____</p> <p>Forma Farm. Concent. /Unid. Posologia _____</p>
<p>IDENTIFICAÇÃO DO COMPRADOR</p> <p>Nome: _____</p> <p>Endereço: _____</p> <p>Identidade Nº: _____ Órgão Emissor: _____ Telefone: _____</p>	<p>IDENTIFICAÇÃO DO FORNECEDOR</p> <p>Nome _____</p> <p>_____</p> <p>_____</p> <p>Data ____/____/____</p>	

- a) Cor azul – Domperidona, AAS, Amoxicilina e Alprazolam.
 b) Cor branca – Escitalopram, Codeína, Venlafaxina e Metoclopramida.
 c) Cor Amarela – Morfina, Oxicodona, Metilfenidato e Metadona.
 d) Cor Amarela – Alprazolam, Escitalopram, Morfina e Melatonina.

23. Quais são os medicamentos e/ou substâncias que estão sujeitos à notificação por meio do seguinte documento?

<p>NOTIFICAÇÃO DE RECEITA ESPECIAL RETINÓIDES SISTÊMICOS (Verificar Termo de Conhecimento)</p> <p>UF _____ NÚMERO _____</p> <p><<SÉRIE XX>></p> <p>Data ____ de ____ de ____</p> <p>Paciente _____</p> <p>Idade _____ Sexo _____</p> <p>Prescrição: Inicial <input type="checkbox"/> Subsequente <input type="checkbox"/></p> <p>Endereço _____</p> <p>Assinatura _____</p>	<p>IDENTIFICAÇÃO DO EMITENTE</p> <p>_____</p> <p>_____</p> <p>_____</p>	<p>ESPECIALIDADE / SUBSTÂNCIA</p> <p>_____</p> <p>Posologia _____</p> <div style="border: 1px solid black; padding: 5px; text-align: center;">  <p>GRAVIDEZ PROIBIDA Risco de graves defeitos na face, nas orelhas, no coração e no sistema nervoso do feto.</p> </div>
<p>IDENTIFICAÇÃO DO COMPRADOR</p> <p>Nome: _____</p> <p>Endereço: _____</p> <p>Identidade Nº: _____ Órgão Emissor: _____ Telefone: _____</p>	<p>IDENTIFICAÇÃO DO FORNECEDOR</p> <p>Nome _____</p> <p>_____</p> <p>_____</p> <p>Data ____/____/____</p>	

- a) Talidomida, Amitriptilina e Tetracaína.
 b) Midazolam, Doxiciclina e Loperamida.
 c) Acitretina, Isotretinoína e Tretinoína.

d) Cetoconazol, Ácido Ascórbico e Mometasona.

24. O estado final de apresentação que os princípios ativos farmacêuticos possuem após uma ou mais operações farmacêuticas executadas com a adição de excipientes apropriados ou sem a adição de excipientes, a fim de facilitar a sua utilização e obter o efeito terapêutico desejado, com características apropriadas a uma determinada via de administração, é denominado forma farmacêutica.

Acerca disso, analise as duas colunas e assinale a alternativa que representa a correlação correta delas:

A - FORMAS FARMACÊUTICAS SÓLIDAS	<input type="checkbox"/> XAROPE
B - FORMAS FARMACÊUTICAS LÍQUIDAS	<input type="checkbox"/> EMLASTO
C - FORMAS FARMACÊUTICAS SEMISSÓLIDAS	<input type="checkbox"/> COMPRIMIDO
	<input type="checkbox"/> SUSPENSÃO
	<input type="checkbox"/> SUPOSITÓRIO
	<input type="checkbox"/> SOLUÇÃO
	<input type="checkbox"/> POMADA
	<input type="checkbox"/> ÓVULO
	<input type="checkbox"/> GEL
	<input type="checkbox"/> ESMALTE
	<input type="checkbox"/> CREME
	<input type="checkbox"/> CÁPSULA
	<input type="checkbox"/> ADESIVO

- a) C – A – B – C – A – C – B – B – A – B – C – B – C.
- b) A – B – A – C – B – B – C – A – C – B – A – B – B.
- c) B – C – B – A – A – B – C – A – C – B – C – B – A.
- d) B – C – A – B – A – B – C – A – C – B – C – A – A.

25. Equipes de enfermagem têm seguido tradicionalmente os cinco certos na administração de medicamentos. Mais recentemente, foram introduzidos mais dois certos, configurando “os sete certos na administração de medicamentos”. Acerca disso e com base no protocolo de segurança na prescrição, uso e administração de medicamentos, assinale a alternativa que apresenta a correta relação dos “certos”.

- a) Paciente certo, Medicamento certo, Via certa, Hora certa, Dose certa, Documentação certa e Razão.
- b) Medicamento certo, Dia certo, Hora Certa, Prescritor certo, Leito Certo, Equipo Certo e Documentação Certa.
- c) Prescritor certo, Farmácia Certa, Medicamento Certo, Líquido para administração certo, Efeito certo, Tratamento certo e Cura certa.
- d) Receituário certo, Medicamento certo, Via certa, Líquido para administração certo, Equipo certo, Reação certa e Efeito certo.

26. Os medicamentos potencialmente perigosos são aqueles que apresentam alto risco de provocar danos significativos em pacientes, se utilizados de maneira incorreta. Apesar de não serem frequentes, erros no uso desses medicamentos podem ocasionar graves consequências ao paciente, como lesões permanentes ou morte.

Qual das classes terapêuticas abaixo não faz parte da lista de medicamentos potencialmente perigosos de uso ambulatorial?

- a) Antirretrovirais.
- b) Anti-hipertensivos.
- c) Hipoglicemiantes orais.
- d) Insulinas.

27. Sistema de distribuição que possibilita acompanhamento farmacoterapêutico do paciente, onde os medicamentos são distribuídos com forma e dosagens prontas para administração, de acordo com a prescrição médica, identificados para cada paciente e para cada horário.

Qual sistema foi descrito acima?

- a) Sistema de Distribuição Coletivo.
- b) Sistema de Distribuição Individualizado.
- c) Sistema de Distribuição Combinado ou Misto.
- d) Sistema de Distribuição por Dose Unitária.

28. Em relação às Formas Farmacêuticas Líquidas para via oral, é incorreto afirmar:

- a) Possuem absorção mais rápida pelo trato gastrointestinal em relação às formas farmacêuticas sólidas (comprimidos e cápsulas).
- b) Facilidade de deglutição, característica importante para pacientes pediátricos ou geriátricos com dificuldade de engolir.

- c) Possuem maior estabilidade físico-química e microbiológica do que as formas sólidas.
- d) Homogeneidade de dose, não necessita de agitação mecânica.

29. De acordo com a Portaria nº 344/98, os medicamentos pertencentes a lista "C1" (outras substâncias sujeitas a controle especial) e "C5" (anabolizantes) devem ser prescritos em quantidade correspondente ao tratamento de 60 dias, no máximo. Entretanto, na lista "C1" há algumas substâncias e/ou medicamentos que podem ser prescritos para até 6 meses de tratamento, como os antiparkinsonianos e anticonvulsivantes.

Assinale a alternativa que cita uma dessas substâncias e/ou medicamentos.

- a) Citalopram.
- b) Oxcarbazepina.
- c) Amitriptilina.
- d) Hemitartarato de Zolpidem.

30. Avalie as afirmações seguintes com V para as verdadeiras, F para as falsas, e assinale a alternativa correta:

() Os medicamentos genéricos apresentam a eficácia e segurança equivalentes à do medicamento de referência, sendo intercambiáveis. Portanto, a substituição do medicamento de referência pelo seu genérico pode ser realizada pelo próprio atendente, sem necessidade da supervisão do farmacêutico.

() Os medicamentos similares podem diferir dos medicamentos de referência em relação ao seu tamanho e forma, prazo de validade, embalagem, excipientes e veículos e rotulagem.

() A substituição segura do medicamento de referência pelo seu genérico é assegurada pelos testes de equivalência farmacêutica e bioequivalência.

() Os medicamentos genéricos contêm o mesmo princípio ativo, dose e forma farmacêutica, são administrados pela mesma via, com a mesma posologia e indicação terapêutica do medicamento de referência.

- a) F – V – V – V.
- b) V – F – V – V.
- c) F – F – F – V.
- d) V – F – V – F.

RASCUNHO.